

# 力だめし\*重さ(1)

名前

1 重さの表し方について、 にあてはまる単位を書き入れましょう。(5×5)

① 重さを表す単位には、 や  や  があります。

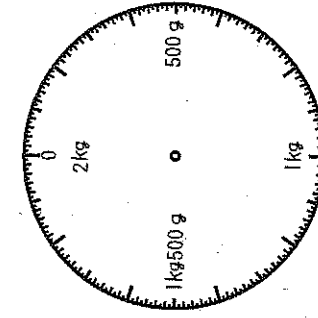
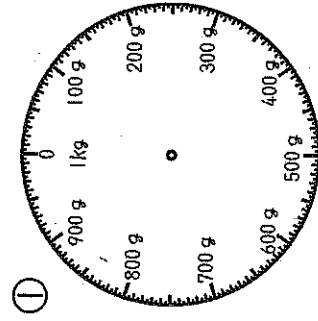
② 1kgは1000 です。

③ 1tは1000 です。

④ 一円玉1この重さは、1 です。

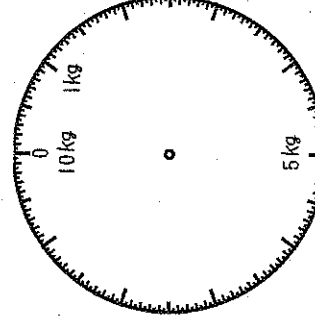
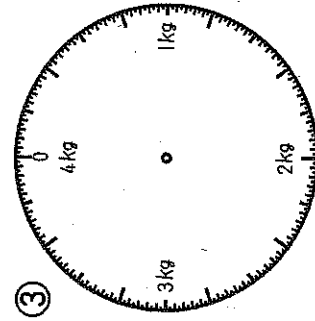
⑤ 水1Lの重さは、1 です。

2 つぎのはかりの1目もりは、何gですか。(5×4)



( )

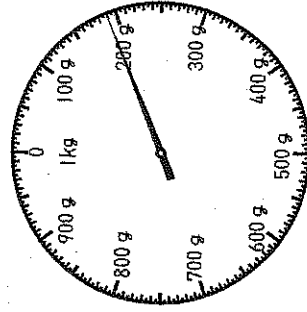
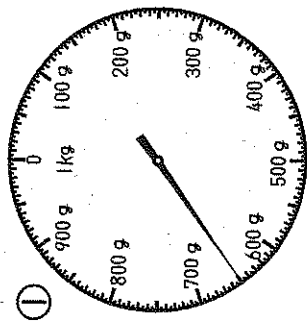
( )



( )

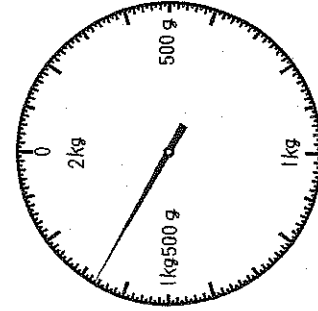
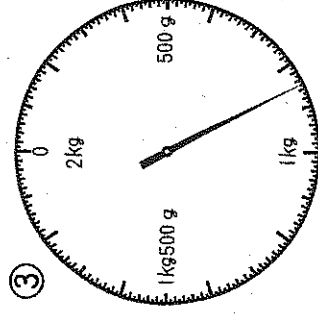

( )

3 つぎのはかりのさしてある重さを ( ) に書き入れましょう。(5×6)



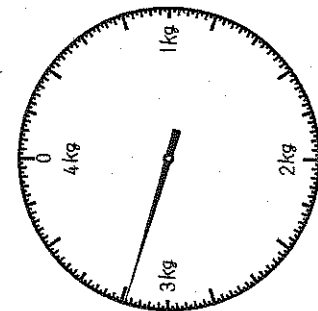
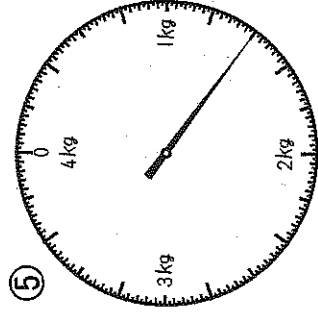
( )g

( )g



( )g

( )kg



( )kg

( )kg

4 つぎの2つはどちらが重いですか。  
 に不等号 (>, <) を入れましょう。(4×5)

① 1000g  980g

② 6kg  7kg

③ 500g  5kg

④ 2kg 800g  2080g

⑤ 3kg  30kg

5 重さ300gのかごに、みかんを800g入れました。合わせて何gになりますか。また、何kg何gですか。(5)

式

答え ( )g

( )kg ( )g

